

Nome : _____





INFORMAÇÃO : _____

Data : ___/___/___

Tabelas de Frequência

1 – Cada aluno da tua turma deve escolher o fruto preferido entre: **uvas, banana, pera e cerejas.**

Regista a escolha de cada aluno na tabela, utilizando um traço (|) para cada resposta, e descobre o número de alunos que prefere cada um dos frutos apresentados.

Fruta	Contagem	Número de alunos
 uvas		
 banana		
 pera		
 cerejas		
	Total	

Depois de preenchida a tabela, responde.

a) Algum fruto foi mais escolhido do que qualquer dos outros?

b) Algum fruto foi menos escolhido do que qualquer dos outros?

c) Quantos meninos preferiram «pera» ou «uvas»?

d) Quantos alunos não preferiram «cerejas»? Explica como pensaste.

Nome : _____

INFORMAÇÃO : _____

Data : __/__/__

Tabelas de Frequência

1 – Na pastelaria Gomes, o Sr. Gomes quis saber como iam as vendas dos seus bolos. Para isso foi registrando os pedidos efetuados durante um dia e organizou os dados da seguinte maneira:

Variedade de bolos	Contagem
bolo de arroz	
jesuíta	
pata de veado	
torta de chocolate	
pastel de nata	
queque	

Organiza uma tabela de frequência.

Variedade de bolos	Contagem	Número de bolos
bolo de arroz		
jesuíta		
pata de veado		
torta de chocolate		
pastel de nata		
queque		

a) Qual foi o bolo mais pedido?

b) Houve bolos com o mesmo número de pedidos? _____

Quais? _____

c) Qual foi o bolo menos pedido?

d) Ordena os bolos por ordem crescente de pedidos.






Nome : _____

INFORMAÇÃO : _____

Data : ___/___/___

Tabelas de Frequência

1 – Na turma da Sofia, fizeram uma tabela para registrar o animal de estimação.

Animal de estimação	Contagem	Número de crianças
 <i>cão</i>		8
 <i>gato</i>		
 <i>peixe</i>		
 <i>pássaro</i>		
 <i>hamster</i>		

a) Conta e preenche a última coluna, como no exemplo?

Qual é o animal preferido? _____

Que animais tiveram o mesmo número de votos? _____

Quantos alunos a mais preferiram o cão do que o pássaro? _____

Quantos alunos existem na turma? _____

2 – Na tua turma, observa a cor predominante no estojo dos teus colegas e preenche a tabela seguinte.

Cor predominante do estojo	Contagem	Número de crianças
VERMELHO		
AZUL		
VERDE		
Outra cor		

Nome : _____

INFORMAÇÃO : _____

Data : ___/___/___

Tabelas de Frequência

1 – Na turma da Joana, o professor registou as faltas diárias dos seus alunos.

Falta dos alunos:

setembro – |||

outubro – |||| |

novembro – ||||

dezembro – ||

janeiro – |||| |

fevereiro – |

março – |||

2 – Completa a tabela de frequência com estes dados.

Meses	Contagem	Número de faltas
setembro		

a) Qual ou quais os meses em que os alunos mais faltaram?

b) Houve meses com o mesmo número de faltas? _____

Quais? _____

c) Quantas faltas há ao todo?

d) Ordena os meses por ordem crescente do número de faltas.

e) Os alunos faltaram mais no 1º ou no 2º período? _____